

Opgave 3 China grijpt in

Uit een krant, 31 augustus 2015:

De koers van de Chinese yuan is door ingrepen van de centrale bank van China in de maand augustus van dit jaar gedaald van 0,161 naar 0,156 US dollar. De centrale bank beïnvloedt al lange tijd de koers van de yuan door rentebeleid en interventies (aan- en verkooptransacties) op de valutamarkt. Door de koersdaling probeert de centrale bank via de betalingsbalans de beoogde economische groei in China voor dit jaar te realiseren.

1p **12** Bereken met hoeveel yuan de koers van de dollar (uitgedrukt in yuan) in de maand augustus 2015 is veranderd.

2p **13** Heeft de centrale bank in augustus de rente verhoogd of verlaagd om de koersdaling van de yuan te bewerkstelligen? Licht het antwoord toe.

Gebruik bron 1.

2p **14** Noteer het nummer van de grafiek uit bron 1 die de interventie op de valutamarkt om de koersdaling van de yuan te bewerkstelligen juist weergeeft.

2p **15** Leg uit dat de koersdaling van de yuan via de lopende rekening van de betalingsbalans kan leiden tot meer economische groei in China.

Een Amerikaanse econoom reageert op de recente ontwikkelingen in China: “De koersdaling die de centrale bank met haar maatregelen heeft veroorzaakt, is een vorm van protectie. Als de Verenigde Staten (VS) tegenmaatregelen nemen, wordt de vrijhandel beperkt en dat zal de economische groei van beide landen vertragen. Ik zal uitleggen waarom”

3p **16** Schrijf in ongeveer 50 woorden de uitleg van de econoom. In de uitleg moeten de volgende aspecten aan de orde komen:

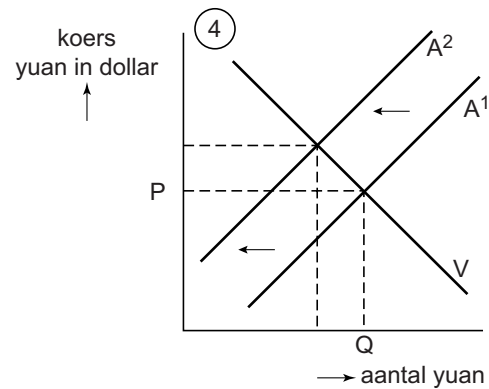
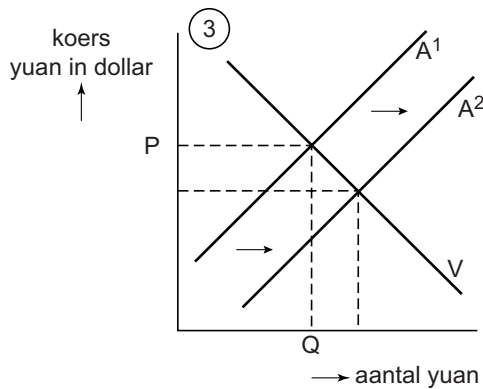
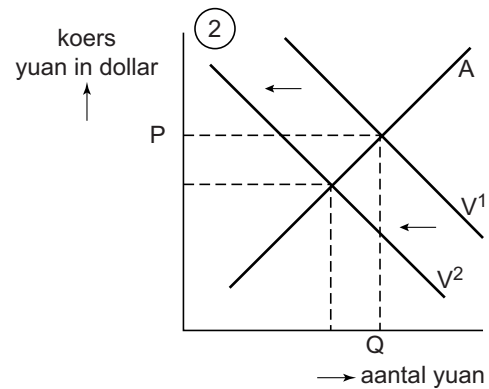
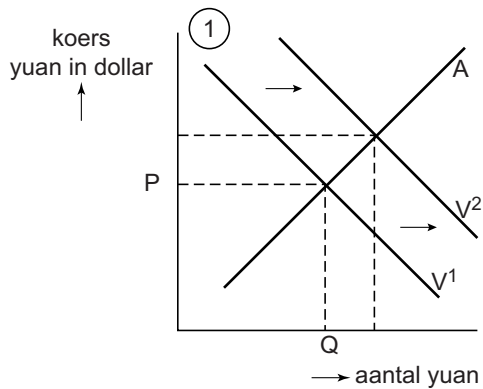
- een reden waarom de koersdaling van de yuan ten opzichte van de dollar de economische groei van de VS zal afremmen
- een andere vorm van protectie (dan een koersdaling) die de regering van de VS kan nemen als tegenmaatregel
- een reden waarom protectie door de VS de economische groei van China zal vertragen

De VS kan door middel van protectie ook de eigen groei belemmeren, nog zonder dat China tegenmaatregelen neemt.

2p **17** Leg dit uit.

Opgave 3 China grijpt in

bron 1 koers Chinese yuan in US dollar op de valutamarkt



- V of V¹ en A of A¹: vraag respectievelijk aanbod op 1 augustus 2015
- V² en A²: vraag respectievelijk aanbod na de ingreep